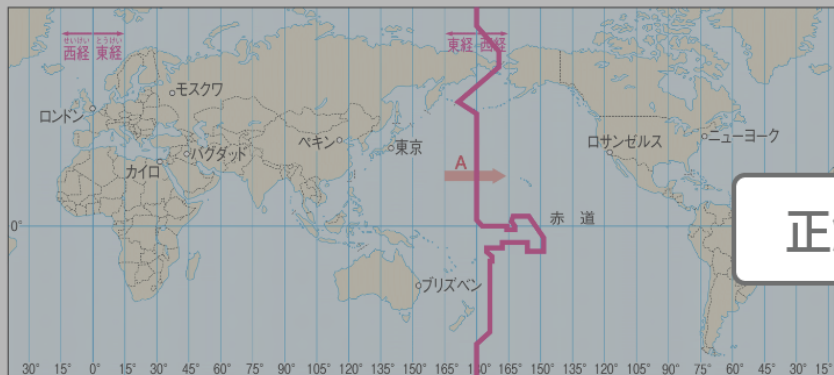


## 2 時差でとらえる日本の位置 - 1

図②を見て、次の問いに答えなさい。

矢印Aのように、経度180度付近の日付変更線を越えたとき、日付は1日進むだろうか、1日戻るだろうか。選択肢から選びなさい。



▲ ②東京とおもな都市の経度の比較

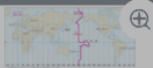
✎ 解答

進む

戻る



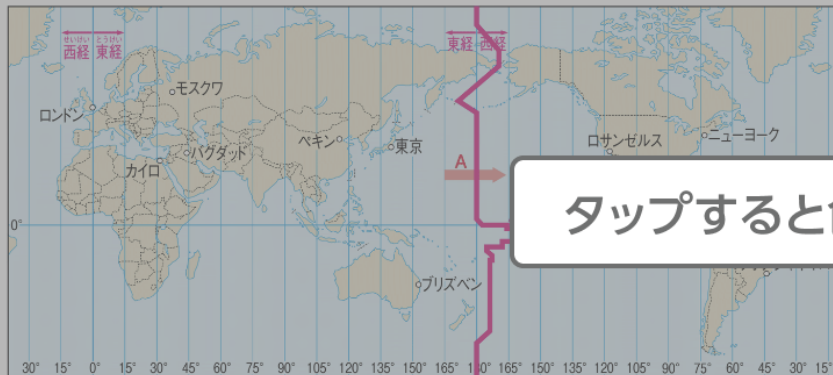
正解だと思うものをタップしよう



## 2 時差でとらえる日本の位置 - 1

図②を見て、次の問いに答えなさい。

矢印Aのように、経度180度付近の日付変更線を越えたとき、日付は1日進むだろうか、1日戻るだろうか。選択肢から選びなさい。



タップすると色が変わるよ

▲ ②東京とおもな都市の経度の比較

✎ 解答

進む

戻る

