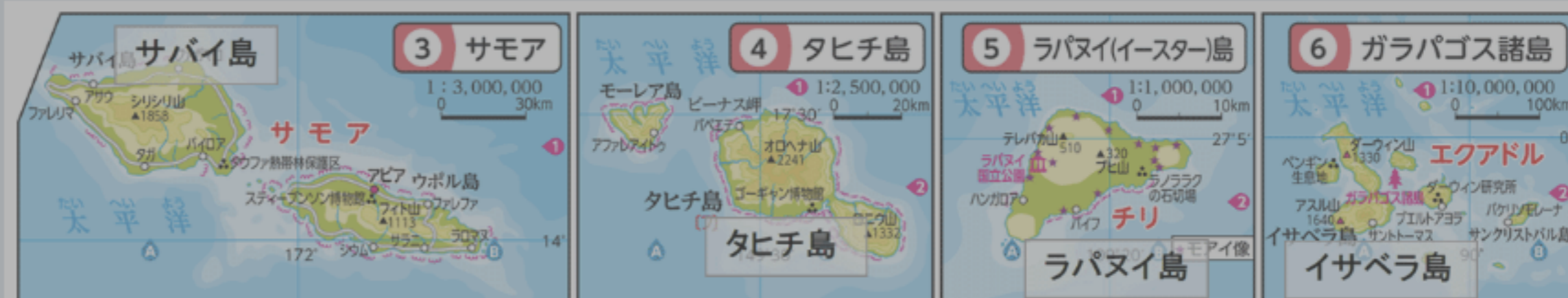


## ② 距離・縮尺

次の問いに答えなさい。

縮尺に着目して、サバイ島(サモア)、タヒチ島、ラパヌイ島、イサベラ島(ガラパゴス諸島)の面積が大きい順に並ぶように、島名をドラッグして表を完成させなさい。

## ✎ 解答



解答パネルは下に表示されるよ

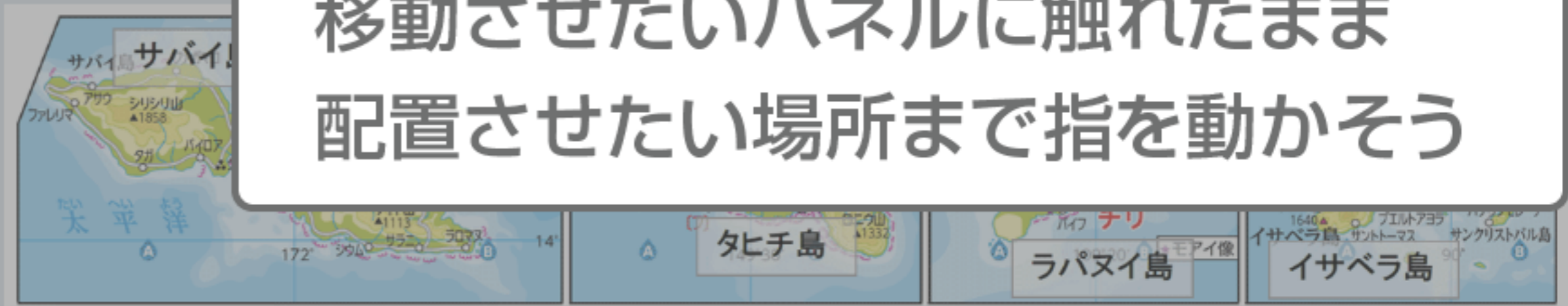
小さい

②距離・縮尺  
次の問いに答えなさい。

縮尺に着目して、サバイ島(サモア)、タヒチ島、ラパヌイ島、イサベラ島(ガラパゴス諸島)の面積が大きい順に並ぶように、島名をドラッグして表を完成させなさい。

解答

移動させたいパネルに触れたまま配置させたい場所まで指を動かそう



大きい ←	面積が	→	小さい



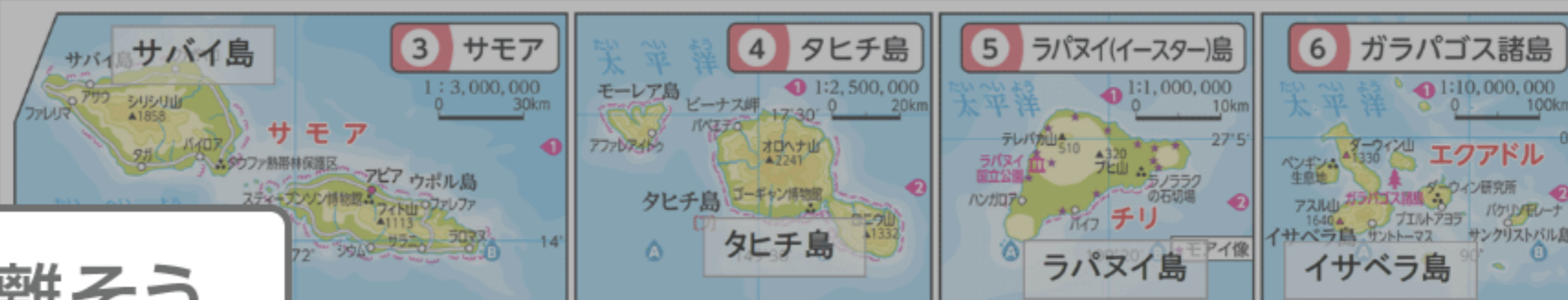
## ② 距離・縮尺

次の問いに答えなさい。

縮尺に着目して、サバイ島(サモア)、タヒチ島、ラパヌイ島、イサベラ島(ガラパゴス諸島)の面積が大きい順に並ぶように、島名をドラッグして表を完成させなさい。

移動できたら指を離そう

## ✎ 解答



大きい ← 面積が → 小さい

サバイ島