



次へ

採点する

問題番号を選択して解答することもできます

①方位・地図記号

次の問いに答えなさい。


右の地図上に、徳島市から東の方角にピンク色の線、岡山市から南西の方角に紫色の線、広島市から北西の方角に青色の線を記入しなさい。



描画モード

拡大モード

100 %



標準表示に戻す

使いたい色をパレットから選ぼう



リセット



次へ

採点する

問題番号を選択して解答することもできます

①方位・地図記号

次の問いに答えなさい。

右の地図上に、徳島市から東の方角にピンク色の線、岡山市から南西の方角に紫色の線、広島市から北西の方角に青色の線を記入しなさい



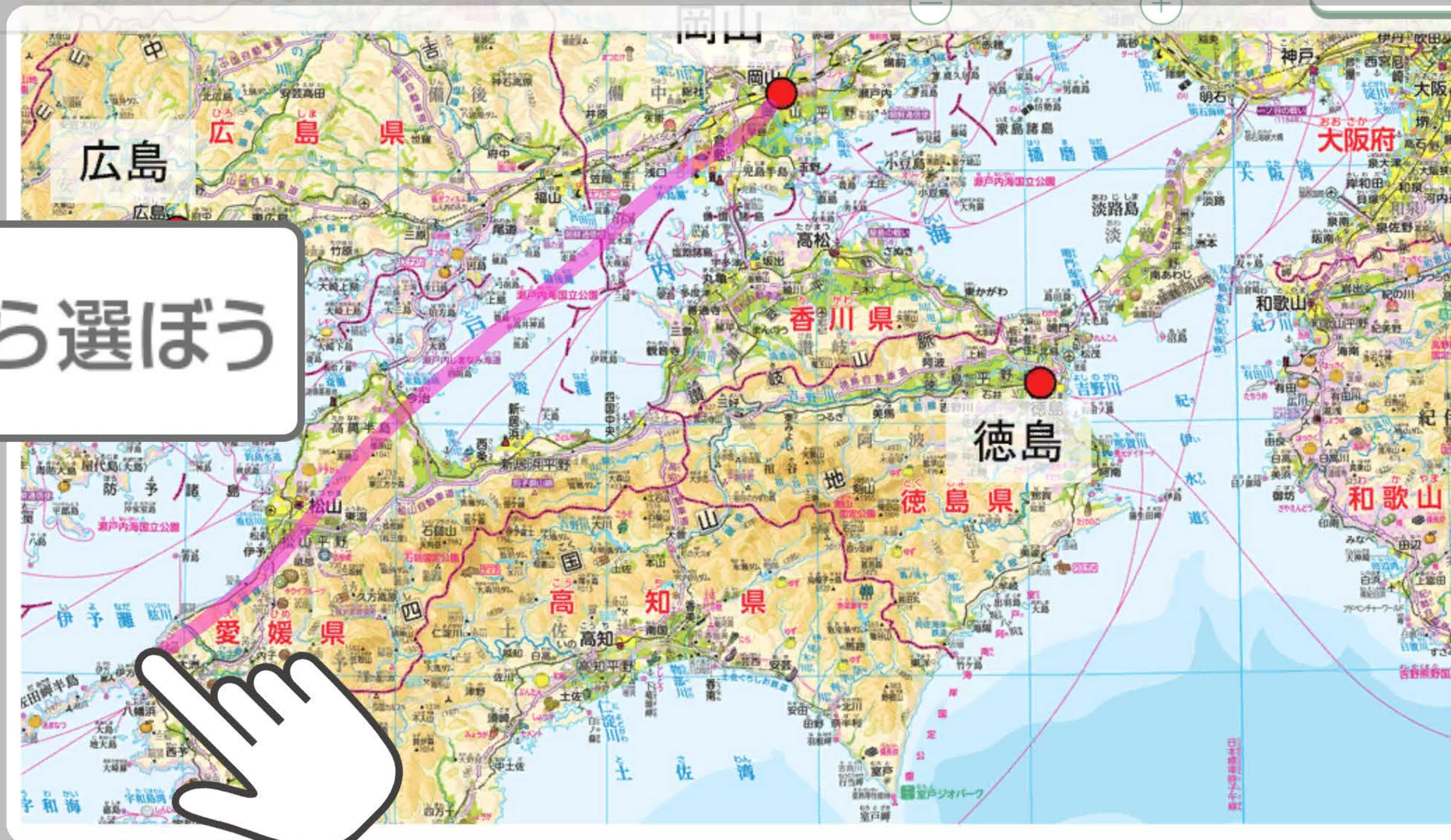
描画モード

拡大モード

100 %

500 %

標準表示に戻す



使いたい色をパレットから選ぼう



リセット



次へ

採点する

問題番号を選択して解答することもできます

①方位・地図記号

次の問いに答えなさい。



右の地図上に、徳島市から東の方角にピンク色の線、岡山市から南西の方角に紫色の線、広島市から北西の方角に青色の線を記入しなさい。



描画モード

拡大モード

100 %



標準表示に戻す

最後に引いた線を消したい時は
取り消すをタップしよう



リセット



次へ

採点する

問題番号を選択して解答することもできます

①方位・地図記号

次の問いに答えなさい。

右の地図上に、徳島市から東の方角にピンク色の線、岡山市から南西の方角に紫色の線、広島市から北西の方角に青色の線を記入しなさい。



描画モード

拡大モード

100 %



標準表示に戻す

取り消した線を戻したい時は
やり直すをタップしよう



リセット



次へ

採点する

問題番号を選択して解答することもできます

①方位・地図記号

次の問いに答えなさい。


右の地図上に、徳島市から東の方角にピンク色の線、岡山市から南西の方角に紫色の線、広島市から北西の方角に青色の線を記入しなさい。



描画モード

拡大モード

100 %



標準表示に戻す



全ての引いた線を消したい時は
リセットをタップしよう



リセット