

①方位・地図記号

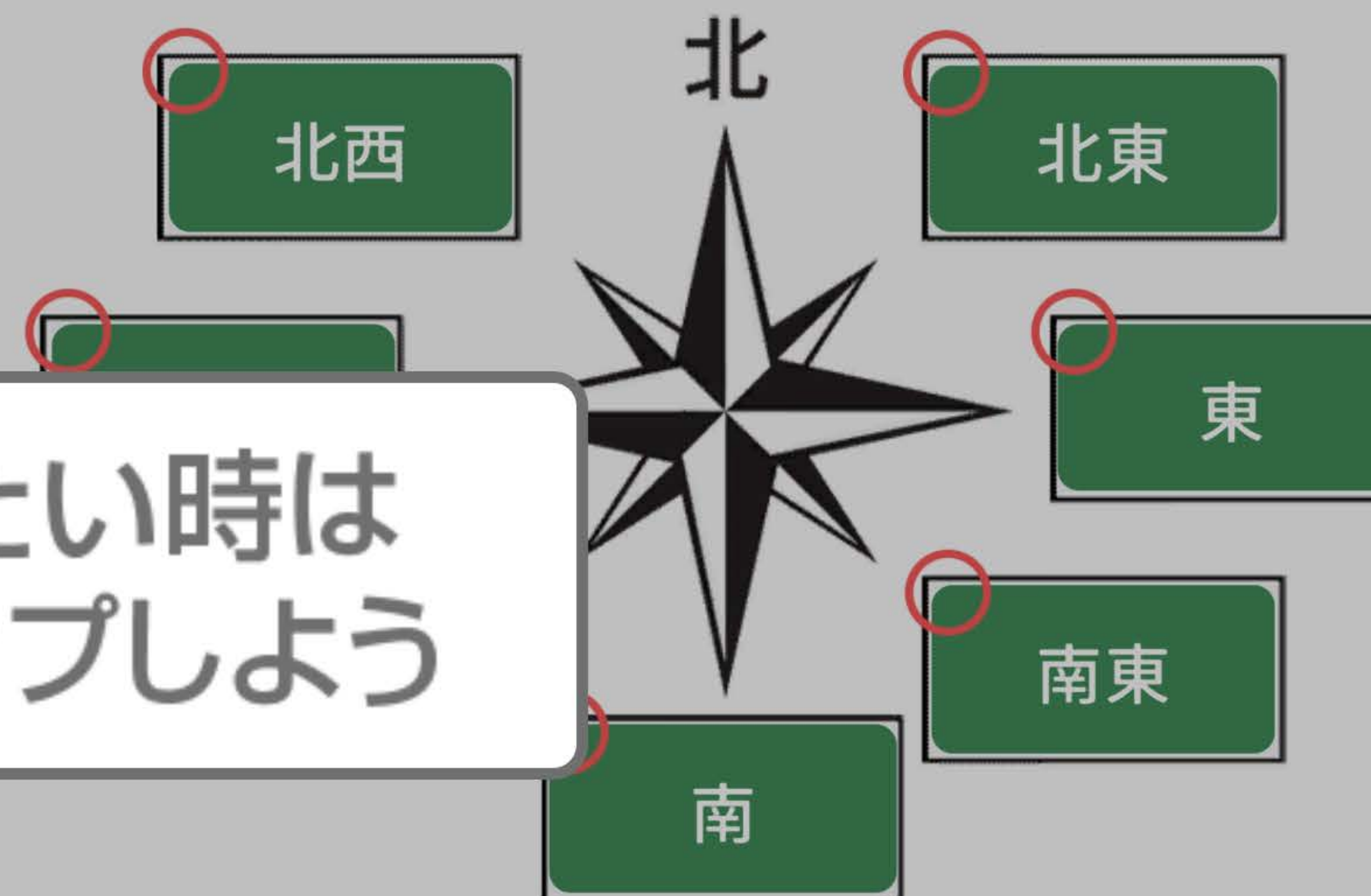
次の問いに答えなさい。

それぞれの解答欄に正しい方位が
あてはまるようにドラッグしなさい。



解答

後で復習したい時は
ボタンをタップしよう





次へ

終了する



問題番号を選択して確認することもできます

①方位・地図記号

次の問いに答えなさい。

それぞれの解答欄に正しい方位が
あてはまるようにドラッグしなさい。



解答

終了するボタンをタップして
採点結果を確認しよう

正解表示



①方位・地図記号

採点結果



解答時間 00:03:16

問題①	7 / 7	<input type="radio"/> <input type="radio"/> <input type="radio"/> <input type="radio"/> <input type="radio"/> <input type="radio"/> <input type="radio"/> <input type="radio"/>
問題②	2 / 3	<input type="radio"/> <input checked="" type="checkbox"/> <input type="radio"/>
問題③	3 / 3	<input type="radio"/> <input type="radio"/> <input type="radio"/>
問題④	8 / 10	<input type="radio"/> <input type="radio"/> <input type="radio"/> <input checked="" type="checkbox"/> <input type="radio"/> <input type="radio"/> <input type="radio"/> <input type="radio"/> <input type="radio"/> <input type="radio"/> <input checked="" type="checkbox"/>
問題⑤	1 / 1	<input type="radio"/>
問題⑥	4 / 4	<input type="radio"/> <input type="radio"/> <input type="radio"/> <input type="radio"/>

採点結果が可視化されるよ

問題一覧へ戻る

次の問題へ



①方位・地図記号

採点結果




解答時間 00:03:16


問題①  7 / 7 

問題②  2 / 3

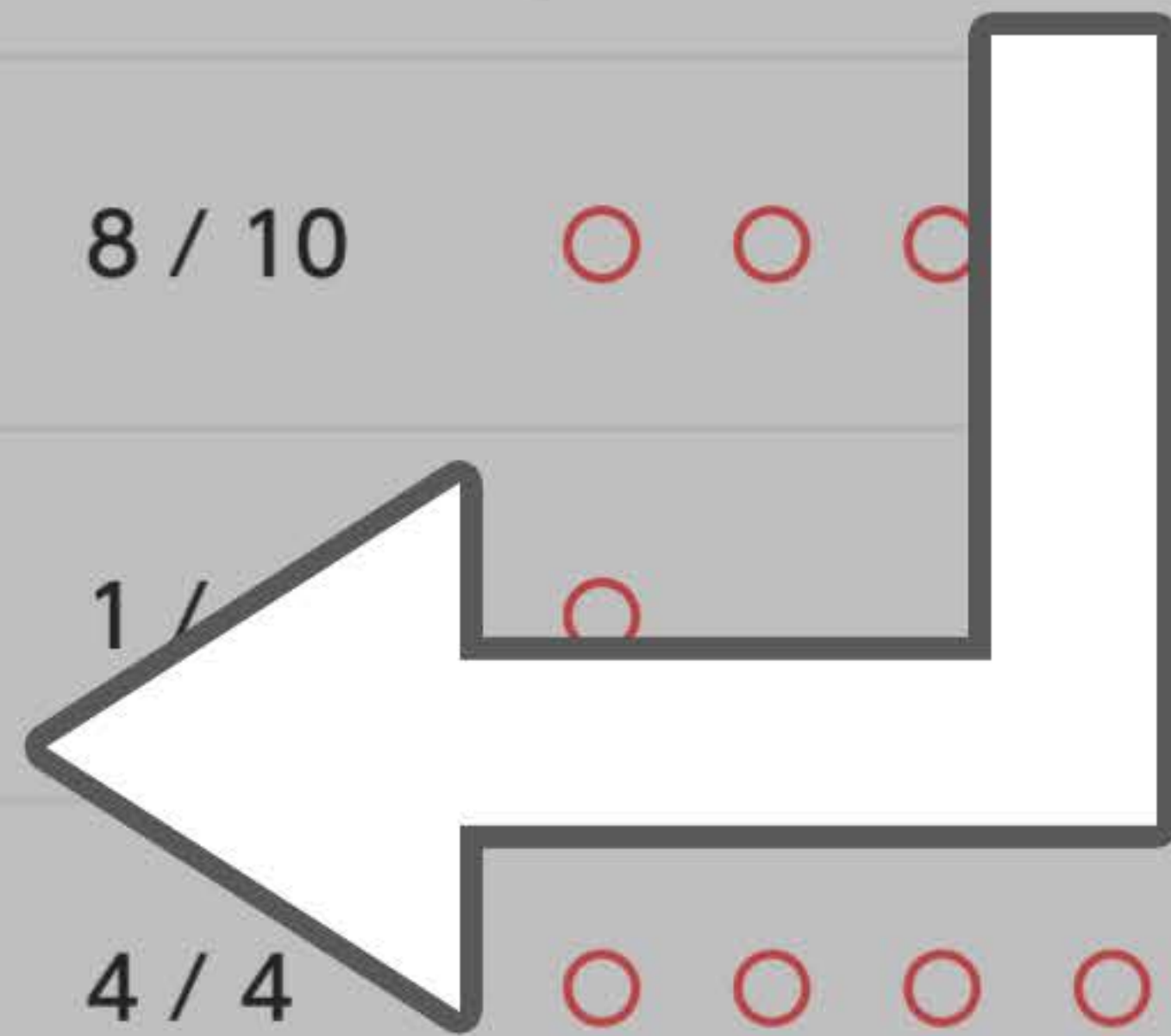
問題③ 3 / 3

問題④  8 / 10 

問題⑤ 1 / 1 

問題⑥ 4 / 4 

復習にチェックを入れた問題は
アイコンが表示されるよ



問題一覧へ戻る

次の問題へ >